

# מחברים ומחסרים

פתרו את התרגילים הבאים.  
חובה להציג את הדרך המלאה (לרשום פריטה או המרה).

$$\begin{array}{r} \text{1} \\ + 65,482 \\ \hline 27,953 \end{array} \quad \begin{array}{r} \text{2} \\ + 75,909 \\ \hline 63,616 \end{array} \quad \begin{array}{r} \text{3} \\ + 94,637 \\ \hline 59,286 \end{array}$$

$$\begin{array}{r} \text{4} \\ - 58,270 \\ \hline 19,536 \end{array} \quad \begin{array}{r} \text{5} \\ - 75,427 \\ \hline 48,139 \end{array} \quad \begin{array}{r} \text{6} \\ - 436,678 \\ \hline 182,936 \end{array}$$










הכינה: היילה אוליני












# מה נשתנה?

בכל קבוצה פתרו את התרגילים לפי סדר פעולות החשבון, גלו מהו המספר המסתתר מאחורי כל איור ורשמו במסגרת המתאימה במקרא האיורים. לבסוף פתרו את תרגיל האיורים.

מלאו את מקרא האיורים

	<input type="text"/>	$24 : (2 \times 4) =$	
	<input type="text"/>	$2 \times (10 - 7) =$	
	<input type="text"/>	$3 \times 5 - 3 =$	
	$:$		$\times$
			$=$ <input type="text"/>

מלאו את מקרא האיורים

	<input type="text"/>	$14 - 11 + 1 =$	
	<input type="text"/>	$(12 + 8) : 4 =$	
	<input type="text"/>	$6 : 1 + 2 =$	
	$:$		$\times$
			$=$ <input type="text"/>

העזרו במקרא האיורים והמספרים שמילאתם (בקבוצות למעלה) - ופתרו את התרגיל הבא.

	$+$		$:$		$-$	$($		$+$		$) =$	<input type="text"/>
---	-----	---	-----	---	-----	-----	---	-----	---	-------	----------------------

הכינה: היילה אוליני